

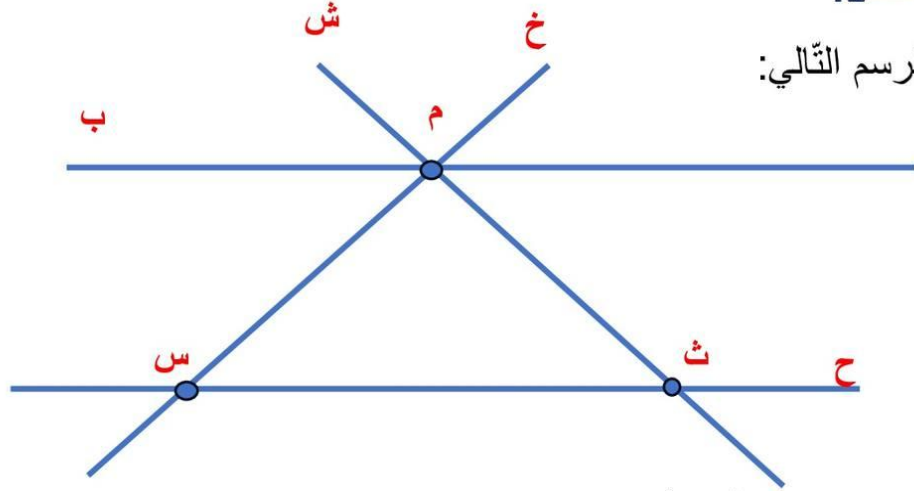
المربية  
انتصار غريب

دعم وعلاج  
معيار4: توظيف خاصيات الأشكال الهندسيّة  
الثلاثي الأول

المدرسة الابتدائية  
عين مزيج  
السنة الرابعة

النشاط عدد1:

ألاحظ الرسم التالي:




أستخرج من الرسم التالي أنصاف المستقيم وقطع المستقيم والمستقيم:

المستقيم	قطع المستقيم	أنصاف المستقيم
.....	.....	.....
.....	.....	.....
.....	.....	.....

النشاط عدد2:

أرسم مستقيم (د) ثم أعين عليه نقطة "م" ونقطة "ص" تبعد عن النقطة "م" 6 صم



أسمي نصف المستقيم وقطع المستقيم.....

.....


### النشاط عدد3:

- أرسم مستقيم (ج) وعيّن عليه النقطة "ر"
- أرسم مستقيم (د) يمرّ من النقطة "ر" وعمودي على المستقيم (ج)
- عيّن نقطة "س" على المستقيم (ج)
- أرسم مستقيم (ك) يمرّ من النقطة "س" وعمودي على (د)
- ما نوع المستقيمان (ك) و (د)



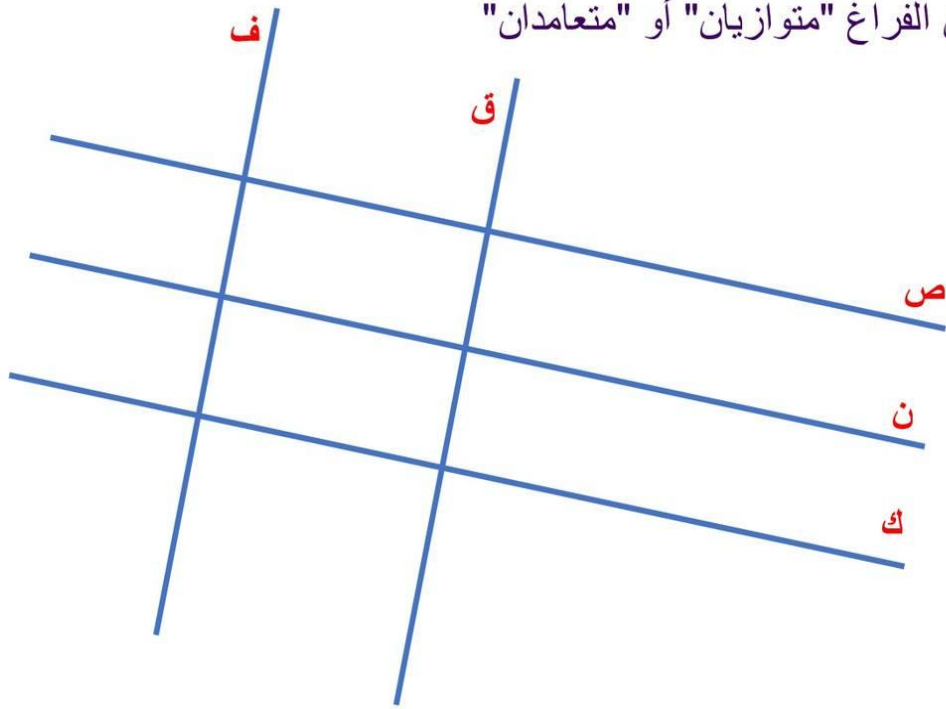
### النشاط عدد3:

- أرسم مستقيم (ن) وعيّن عليه النقطة "و"
- أرسم مستقيم (ب) يمرّ من النقطة "و" وعمودي على المستقيم (ن)
- عيّن نقطة "ش" على المستقيم (ب)
- أرسم مستقيم (م) يمرّ من النقطة "ش" وعمودي على (ب)
- ما نوع المستقيمان (م) و (ن)



### النشاط عدد3:

أكتب مكان الفراغ "متوازيان" أو "متعامدان"



- ..... المستقيمان (ص) و (ن) ○
- ..... المستقيمان (ص) و (ق) ○
- ..... المستقيمان (ن) و (ق) ○
- ..... المستقيمان (ص) و (ك) ○
- ..... المستقيمان (ك) و (ن) ○
- ..... المستقيمان (ق) و (ف) ○
- ..... المستقيمان (ك) و (ق) ○
- ..... المستقيمان (ف) و (ن) ○

### النشاط عدد3:

أرسم مستقيم (م) وعين عليه النقطة "د"

أرسم مستقيم يمرّ من النقطة "د" وعمودي على المستقيم (م)

